





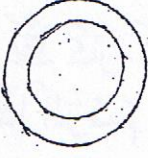


الإدارة الجهوية للتعليم بالمنستير مدرسة طريق رمادة دائرة المنستير 3	تقييم مكتسبات التلاميذ في مادة الرياضيات مكتبة الخدمات الثلاثي الثالث السنة الدراسية 2010/2011
الاسم و اللقب : سن: 2 / أ ب	أمام جامع التوبة المنستير يوم : ..... / ..... / 2011 العدد : ..... / 0

فِي الْعِطْلَةِ قَرَّرَ ثَلَاثُ إِخْوَةٍ الدَّهَابَ إِلَى الشَّاطِئِ لِلنَّزْهَةِ. وَ قَبْلَ الْخُرُوجِ كَسَرُوا حَصَالَتَهُمْ فَوَجَدُوا :

أَحْمَدُ	ثَرِيَا 785 مي	مُرَادُ 625 مي
		
أَحْسَبَ مَبْلَغَ أَحْمَدَ	أَكْمَلَ تَمَثِيلَ الْمَبْلَغِ	أُمِثِلُ الْمَبْلَغَ بِ 6 قِطْ
مي		

مع 3


خِلَالَ النَّزْهَةِ تَوَجَّهَ الْأَطْفَالُ إِلَى الْبَائِعِ فَوَجَدُوا قَائِمَةَ الْمَعْرُوضَاتِ التَّالِيَةِ

عَصِيرٌ	مُتَلَجَّةٌ	كَوْكَهٌ	مُرَطَّبَةٌ	شُكْلَاطَةٌ
				
215 مي	225 مي	200 مي	375 مي	350 مي

مع 2 أ

--

مع 1

--

شَرَى أَحْمَدُ مُرَطَّبَةً وَ مُتَلَجَّةً .  
أَحْسَبَ ثَمَنَ مُشْتَرِيَاتِ أَحْمَدَ

مع 2 مكتبة الخدمات والمبلغ المتبقي عند أَحْمَدَ

أمام جامع التوبة المنستير





وَشَرَتْ ثُرَيَّا سُكْلَاطَةً وَ مُرْطَبَةً  
أَحْسَبُ ثَمَنَ مُشْتَرِيَاتِ ثُرَيَّا

مع 1

مع 2 أ

مع 2 ب

أَحْسَبُ الْبَاقِي عِنْدَ ثُرَيَّا

أَمَّا مُرَادٌ فَقَدْ شَرَى كَعْكَةً وَ عَصِيرًا  
أَحْسَبُ ثَمَنَ مُشْتَرِيَاتِ مُرَادٍ .

مع 2 أ


مع 1

مع 2 ب

أَحْسَبُ الْمَبْلَغِ الْمُتَبَقِّي عِنْدَ مُرَادٍ .

عِنْدَ الدَّخُولِ إِلَى الْبَائِعِ اخْتَارَ أَحْمَدُ مُرْطَبَةً عَلَى شَكْلِ خُمَاسِي أَضْلَاجٍ .  
الرَّسْمُ هَذَا الشَّكْلُ

وَ ثُرَيَّا اخْتَارَتْ مُرْطَبَتَهَا عَلَى هَذَا الشَّكْلِ



اَكْتُبُ اسْمَ هَذَا الشَّكْلِ

مع 4

أَمَّا مُرَادٌ فَقَدْ كَانَ شَكْلُ عُلْبَةِ عَصِيرِهِ عَلَى شَكْلِ سُبَاعِي أَضْلَاجٍ  
أَكْمَلُ هَذَا الرَّسْمِ





أَمَّا الْأَخُ الْأَصْغَرُ سَامِي فَقَدْ أَرَادَ شِرَاءَ لَعِبٍ بَحْرِيَّةٍ ثَمَنُهَا 975 مِي  
عَدَّ نَقُودَهُ فَوَجَدَ أَنَّهُ يَنْقُصُهُ 230 مِي  
أَضْعُ عَلَامَةً ( x ) أَمَامَ السُّؤَالِ الْمُنَاسِبِ :

أمام جامع التوبة المنستير

☐

- مَا هُوَ ثَمَنُ الدَّمِيَّةِ ؟

☐

- مَا هُوَ الْمَبْلَغُ الَّذِي كَانَ يَمْلِكُهُ سَامِي ؟

☐

- مَا هُوَ مَبْلَغُ سَلْمَى وَكَرِيمِ ؟

مع 5

الْجَوَابُ :

الْعَمَلِيَّةُ :

حِسَابُ ذَهْنِيٍّ

جدول إسناد الأعداد

مستويات التملك	مع أ	مع 2 أ	مع 2 ب	مع 3	مع 4	مع 5	حساب ذهني
انعدام التملك ( - - - )	0	0	0	0	0	0	0
دون التملك الأدنى ( - - + )	0.5	1	1	1	0.5	2	1
التملك الأدنى ( - + + )	1	2	2	2	1	2	3*
التملك الأقصى ( + + + )	1.5	3	3	3	1.5	4	4

مكتبة الخدمات

أمام جامع التوبة المنستير

