

تقييم مكتسبات التلميذ في

نهاية الثلاثي الثالث (جوان 09)

في الرياضيات

القسم:

اللقب:

الاسم:

السند 1: شارك في رحلة استطلاعية وترفيحية إلى دار الأسماء بسلامبو وحديقة الحيوانات بالتفدير 185 تلميذ من تلاميذ الدرجة الأولى بمراسمتنا وعدة آيين تلاميذ الدرجة الثانية يفوق عدة تلاميذ الدرجة الأولى بـ 14 تلميذاً.

التعليمة 1-1: أحسب عدة المشاركين من الدرجة الثانية


التعليمة 1-2: أحسب عدة المشاركين من الدرجتين معاً

عدة المشرفون على الرحلة عدة الأولاد فوجدوا 214 وعدوا عدة البنات فكان يقل عن عدد الأولاد بـ 44. التعليمة 1-3: أحسب عدة البنات المشاركات في الرحلة



السند 2 : فِي دَارِ الْأَسْمَاكِ اسْتَمْتَحَ الْأَطْفَالُ وَاسْتَفَادُوا
 وَالتَّقَطُّوا هَوْرًا تَدْكَارِيَّةً ثُمَّ غَادَرُوا مُتَّجِهِينَ إِلَى حَدِيقَةِ
 الْحَيَوَانَاتِ بِالْبَلْفِيدِ بِرَحِيَّةٍ نَسِيضُونَ أَيُّهَا وَقْتًا مَدِينَةً وَمُفِيدًا.
 قَبْلَ الدُّخُولِ إِلَى الْحَدِيقَةِ أَخْرَجَ كُلُّ مَنْ مَرَادٍ وَنَيْلٍ وَتَسْعِيدٍ
 مَا يَمْلِكُونَهُ مِنْ نُفُوسٍ لِأَقْبَانٍ بَعْضُ الْمُسْتَشْرِيَاتِ الْمَعْرُوفَةِ أَمَا تَهْمُ
 يَمْلِكُ مَرَادٍ 985 م.

التعليمة 2-1 : أَمِثِلْ هَذَا التَّبَلُغَ الْمَالِيَّ بِ 9 قِطْعِ نَقْدِيَّةٍ .



3 مع

اسْتَشْرَى كَيْسًا مِنْ الدُّرَّةِ بِ 385 م. وَكَيْسًا مِنْ عِبَادِ الشَّمْسِ بِ 250 م.
 التَّعْلِيمَةُ 2-2 : كَمْ تَمُنُّ مُسْتَشْرِيَاتٍ مُرَادٍ ؟

1 مع

 2 مع

وَيَمْلِكُ نَيْلٍ 850 م.
 التَّعْلِيمَةُ 2-3 : أَوْامِلْ رَسْمَ الْقِطْعِ النَقْدِيَّةِ التَّاقِمَةِ



3 مع

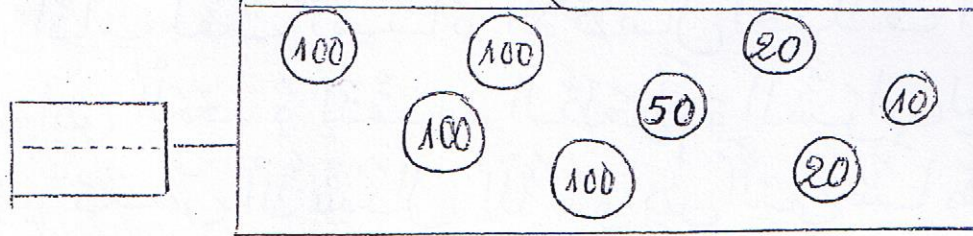
شَرَى كَيْسًا مِنْ حَبَّاتِ الْكَافُورِ بِ 400 م.
 التَّعْلِيمَةُ 2-4 : كَمْ يَبْقَى لِنَيْلٍ ؟

1 مع

 2 مع



أَمَا سَعِيدٌ فَلَهُ هَذِهِ الْقِطْعَةُ النَّقْدِيَّةُ:



التَّعْلِيمَةُ 2-5: أَكْتُبُ قِيَمَةَ الْقَبْلِغِ الْمَالِيِّ دَاخِلِ الْإِطَارِ
نَشْرَى سَعِيدٌ كَيْسًا مِنْ مَكْعَبَاتِ الْكَافِي قَبْلِي لَهُ 200 مِ
التَّعْلِيمَةُ 2-6: أَحْسِبُ ثَمَنَ كَيْسِ الْكَافِي.


السَّنْدُ 3: لَمْ يَنْسَ هَوْلَاءُ الْأَطْفَالَ صَدِيقَهُمُ "الْمَهْدِي" وَقَرُّوا
أَنْ يَشْتَرُوا لَهُ أَيْضًا مِنْ إِحْدَى هَذِهِ الْبَضَائِعِ، فَهَوَّ تَسْتَفِخُ كَثِيرًا
لِذَلِكَ دَفَعَ كُلُّ وَاحِدٍ مِنْهُمْ 250 مِ وَشَرُّوا لَهُ كَيْسًا
صَغِيرًا مِنَ اللَّوزِ.

التَّعْلِيمَةُ 3-1: اخْتَارِ السُّؤَالَ الْمُنَاسِبَ لِهَذِهِ الْوَضْعِيَّةِ
كَمْ دَفَعَ كُلُّ طِفْلِ؟
كَمْ بَقِيَ لِكُلِّ طِفْلِ؟
كَمْ ثَمَنُ كَيْسِ اللَّوزِ؟

التَّعْلِيمَةُ 3-2: أُجِيبُ عَنِ السُّؤَالِ الَّذِي اخْتَرْتَهُ.



السُّدُّ 4 : اُنْتَاءَ تَجْوُلِهِمْ فِي الْحَدِيقَةِ بَيْنَ أَقْفَاصِ
 الْحَيَوَانَاتِ لَفَتْ اُنْتِبَاهَهُ الْأَطْفَالِ اُخْتِلَافُ اُنْشِكَالِ
 الْأَحْوَاضِ الْمُعَدَّةِ لِتَقْدِيمِ الطَّعَامِ وَالشَّرَابِ لِهَذِهِ الْحَيَوَانَاتِ
 هَذِهِ بَعْضُ الْأَشْكَالِ لِلْأَحْوَاضِ الَّتِي شَاهَدَهَا الْأَطْفَالُ



سُدِّدِ اسْمِي أَضْلَاعِ

رُبَاعِيٍّ أَضْلَاعِ

4 د

التَّعْلِيمَةُ 4-1 : ارْسُمْ حَوْضًا عَلَى شَكْلِ رُبَاعِيٍّ أَضْلَاعِ
 التَّعْلِيمَةُ 4-2 : اَتَعَرَّفُ شَكْلَ الْحَوْضِ الثَّانِي وَأَكْتُبُهُ
 التَّعْلِيمَةُ 4-3 : أَوِصِلْ رَسْمَ الْحَوْضِ الثَّلَاثِ لِأَتَحَمَّلَ عَلَى سُدِّ اسْمِي أَضْلَاعِ

