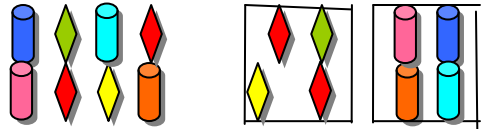

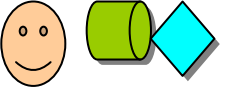
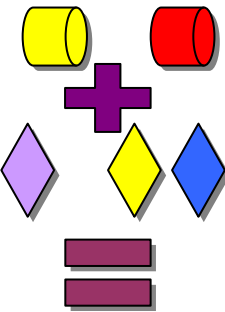




## المادة : رياضيات .

التهيئة : املئ الفراغات بالأعداد المناسبة ؟

$$- = 2 + 5 , - = 0 + 3 , - = 3 + 2 , - = 6 + 0 , - = 3 + 1 , - = 4 + 3 \quad \#\#$$

\#\# ما هو العدد الذي يلي العدد ( 7 ) ؟

الأهداف	المحتوى	أنشطة التعليم والتعلم	التقويم	التقويم النهائي
<p>- أن تكون التلميذة مجموعة مكونة من ( 8 ) عناصر .</p> <p>- أن تستنتج التلميذة حقائق العدد ( 8 ) .</p> <p>- أن تقرأ التلميذة الجمل قراءة صحيحة .</p> <p>- أن تكتب التلميذة الجمل الرياضية المناسبة .</p> <p>- أن تميز التلميذة بين حقائق الأعداد .</p> <p>- أن تحفظ التلميذة حقائق العدد ( 8 ) .</p> <p>- أن تمثل التلميذة حقائق العدد ( 8 ) باستخدام المكعبات .</p> <p>- أن تحافظ التلميذة على نظافة كتابها .</p>	<p>- تكوين مجموعة مؤلفة من 8 عناصر .</p> <p>تجزئة مجموعة مؤلفة من 8 عناصر إلى مجموعتين .</p>  <p>تستنتج التلميذة حقائق العدد ( 8 ) .</p> $8 = 4 + 4$ <p>قراءة الجمل الرياضية قراءة صحيحة .</p> <p>كتابة الجمل الرياضية على السبورة .</p>  <p> <math>- = - + -</math> </p> <p>تمييز التلميذة بين حقائق الأعداد .</p> <p>حفظ حقائق العدد ( 8 ) .</p> $8 = 2 + 6 \quad 8 = 0 + 8$ $8 = 7 + 1 \quad 8 = 1 + 7$ $8 = 5 + 3 \quad 8 = 4 + 4$ $8 = 6 + 2 \quad 8 = 8 + 0$ $8 = 3 + 5$ <p>تمثيل حقائق العدد ( 8 ) باستخدام المكعبات .</p> <p>حل تمارين الدرس في الكتاب بشكل صحيح .</p>	<p>- توزيع بعض الأقلام الملونة على بعض التلميذات بحيث تكون كل تلميذة مجموعة مكونة من ( 8 ) عناصر .</p> <p>- تجزئة المجموعة المكونة من ( 8 ) عناصر إلى مجموعتين .</p> <p>- اذكري الجملة الرياضية عند كل مجموعة ؟</p> <p>- قراءة جملة الجمع في كل مرة من قبل التلميذات .</p> $8 = 0 + 8 \quad 8 = 7 + 1 \quad 8 = 6 + 2 \quad 8 = 3 + 5$ <p>استخدام القطع المغناطيسية لتكوين مجموعات واستنتاج حقائق العدد ( 8 ) .</p> <p>عد عناصر كل مجموعة من قبل التلميذات مع كتابة العدد المناسب .</p> <p>كتابة حقائق العدد ( 8 ) على السبورة ثم قراءتها وتدريب التلميذات على قراءتها .</p> <p>أسجل بعض الجمل الرياضية على السبورة ثم تميز التلميذة من أي الحقائق تعتبر كل جملة .</p> $5 = 0 + 5 , 4 = 2 + 2 , 8 = 7 + 1 , 3 = 1 + 2$ $8 = 4 + 4 , 7 = 2 + 5 , 6 = 3 + 3 , 5 = 3 + 2$ <p>قراءة حقائق العدد ( 8 ) من قبلي ثم من قبل التلميذات .</p> <p>- تمثيل حقائق العدد ( 8 ) باستخدام المكعبات من قبل التلميذات .</p> <p>التطبيق :.</p> <p>فتح الكتاب ثم قراءة التمارين للتلميذات .</p> <p>حل تمارين الدرس في الكتاب بشكل صحيح .</p> <p>حث التلميذات على النظافة والترتيب .</p> <p>الواجب المنزلي : حفظ حقائق العدد ( 8 ) جيداً .</p>	<p>- كوني مجموعة من ( 8 ) عناصر ؟</p> <p>- جزني كل مجموعة إلى مجموعتين ؟</p> <p>- استنتجي حقائق العدد ( 8 ) ؟</p> <p>- اقري الجملة الرياضية قراءة صحيحة ؟</p> <p>- اكتبي الجملة الرياضية المناسبة ؟</p> <p>- من أي الحقائق تعتبر هذه الجمل :</p> $3 = 1 + 2$ $7 = 6 + 1$ $8 = 3 + 5$ $5 = 3 + 2$ $6 = 3 + 3$ <p>- استخدم المكعبات في تمثيل حقائق العدد ( 8 ) ؟</p> <p>- اكتب العدد المناسب :.</p> $= 8 + 0$ $= 6 + 1$ $= 5 + 3$ $= 2 + 4$ $= 6 + 2$ $= 0 + 8$ $= 3 + 4$	    <p>*****</p>