
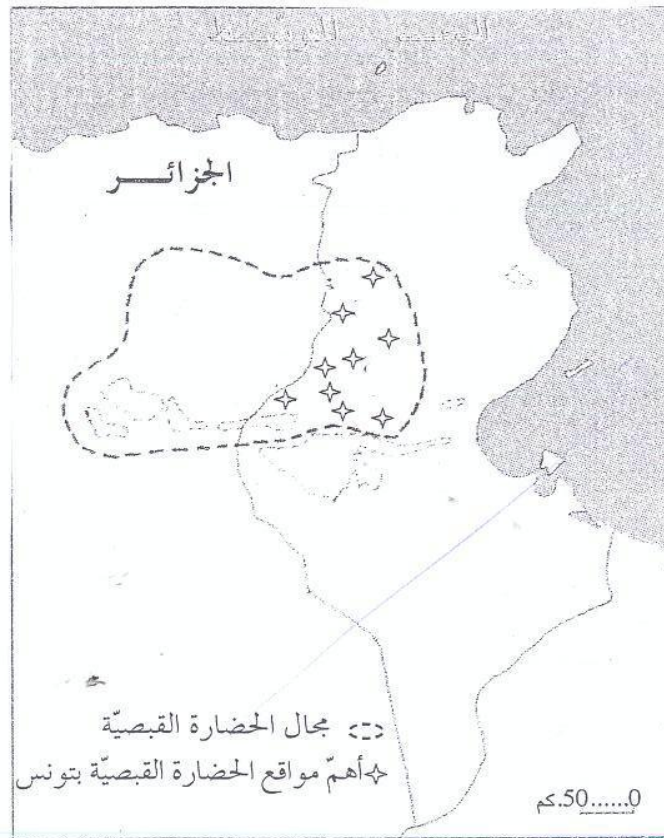


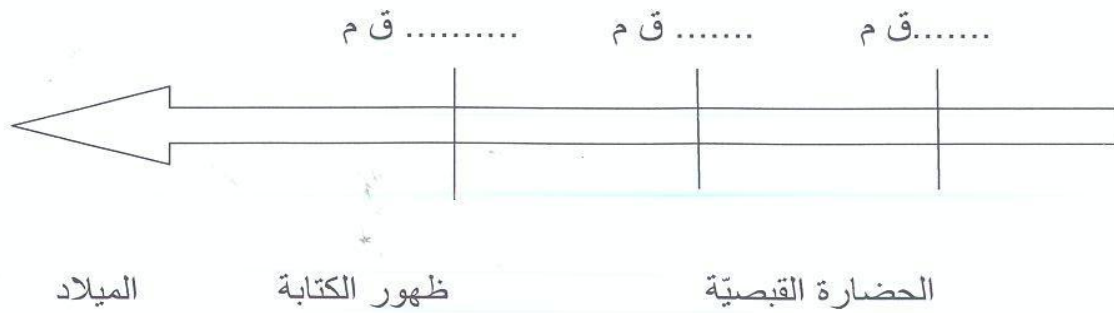
السنة الخامسة المدة: 45دق	تقييم مكتسبات التلاميذ في نهاية الثلاثي الأول 2012-2011	
العدد 20	المادة : تاريخ	الاسم و اللقب :

السند 1 : تعتبر الحضارة القبصية من أقدم الحضارات التي عرفتها البلاد التونسية .

التعليمة 1: أذكر على الخريطة أسماء أهم مواقع الحضارة القبصية بتونس .



التعليمة 2: أواصل تعميم السلم الزمني بما يناسب .



التعليمة 3 :أصلح الخطأ إن وجد بإعادة كتابة الجملة صحيحة .

مع 3

★ تنتمي الحضارة القبصية الى العصور التاريخية .

★ .....

★ تواجدت الحضارة القبصية في الجنوب الغربي للبلاد التونسية

★ .....

★ فضل القبصيون العيش داخل كهوف .

★ .....

التعليمة 4 : أحرر فقرة أبرز فيها كيفية عيش القبصيين و الأدوات التي استعملوها .

مع 4

.....

.....

.....

.....

.....

.....



السند 2 : الحدث التاريخي هو الحدث الهام في حياة الفرد أو المجموعة.

التعليمة 1: أختار مما يلي ما يمثل أحداثا تاريخية بوضع علامة (x) في المكان المناسب .

- |                            |                          |
|----------------------------|--------------------------|
| عيد الاضحى                 | <input type="checkbox"/> |
| نزول الانسان على سطح القمر | <input type="checkbox"/> |
| شروق الشمس                 | <input type="checkbox"/> |
| ولادة الرسول سنة 570 م     | <input type="checkbox"/> |
| استقلال تونس سنة 1956      | <input type="checkbox"/> |

مع 1

التعليمة 2: أكتب تحت كل صورة " وثيقة تاريخية صامتة" أو "وثيقة تاريخية مكتوبة"



مع 2 ب

مع 1	مع 2	مع 3	مع 4	مع 5	معيار التميز
0	0	0	0	0	انعدام التملك
1	1	1	1	1	التملك دون الأدنى
2	2	2	2	2	التملك الأدنى
3	3	3	3	3	التملك الأقصى
5					

