

المقيطع 1 :

تحصل الفلاح أحمد في هذا الموسم على كميات متنوعة من الزيت كما يبينه الجدول التالي :

النوع	الصف 1	الصف 2	الصف 3
الكمية	55 دكل	13 دكل و 5 ل	2 هل
ثمن اللتر الواحد	5 دينار	4 دينار	3 دينار

التعليمة 1 : أبحث عن ثمن الصف الأول من الزيت .

.....
.....
.....
.....

.....
3 مع
.....
1 مع
.....
2 مع

التعليمة 2 : أبحث عن ثمن الصف الثاني من الزيت .

.....
.....
.....
.....

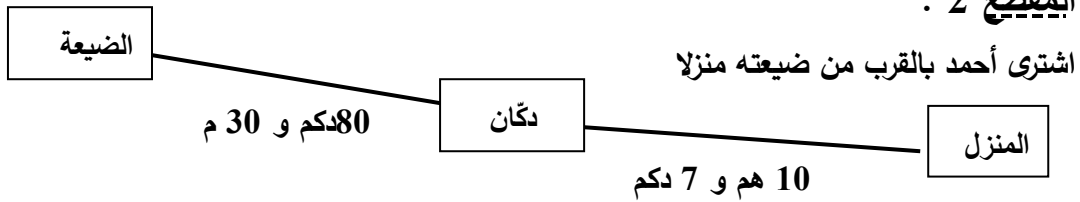
.....
3 مع
.....
1 مع
.....
2 مع

التعليمة 3 : أبحث عن ثمن الصف الثالث من الزيت .

.....
.....
.....
.....

.....
3 مع
.....
1 مع
.....
2 مع

المقيطع 2 :



التعليمة 4 :

ما هو طول المسافة الفاصلة بين الضيعة و الدكان بالمتر .

.....

ما هو طول المسافة الفاصلة بين الدكان و المنزل بالمتر .

.....

ما هو طول المسافة الفاصلة بين المنزل و الضيعة بالمتر .

.....

.....
3 مع ب

المِقطِيع 3 :

ثمن شراء المنزل 20.000 دينار . دفع المبلغ الذي تحصل عليه من بيع الزيت و اقترض المبلغ المتبقي من البنك .

رأى أحمد أنه من الأفضل إدخال بعض التغييرات على المنزل الجديد فاستأجر بناء و ثلاثة عمال لمدة أسبوع مع العلم أن أجره البناء 35 د في اليوم أما أجره العملة الثلاثة في اليوم فهي 50 دينار .

التعليمة 4 :

أ : أشرح سؤالاً مناسباً يتطلب حلّه مرحلتين .

.....

ب : أجب عن السؤال بعبارة عددية واحدة .

.....

المِقطِيع 4 :

بلغ ثمن مواد البناء التي اشتراها أحمد 420 دينار إلا أن البائع خفّض له السعر بـ 25 دينار

التعليمة 5 : أ : أحسب تكاليف صيانة المنزل .

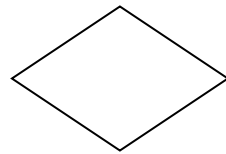
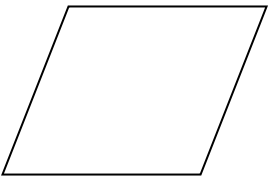
.....
.....
.....
.....

المِقطِيع 5 :

قام العمال بتشبيد غرفة لإيداع الأدوات الفلاحية و البذور مستطيلة الشكل بعدها 7 م و 4 م .

التعليمة 6 :

أ : ألون ممّا يلي ما يناسب شكل الغرفة .



ب : أرسم هذه الغرفة معوضاً كل 1 م ب 1 صم

مع 5

مع 1
مع 2

مع 4

مع 4