

التوقيت : 60 دق

القسم : س 6

هندسة مذكرة :

كفاية المادة: حلّ وضعيات مشكل دالة إنماء للاستدلال الرياضي
مكونات الكفاية: حلّ وضعيات مشكل دالة بتوظيف خصائص الأشكال الهندسية

الهدف المميز

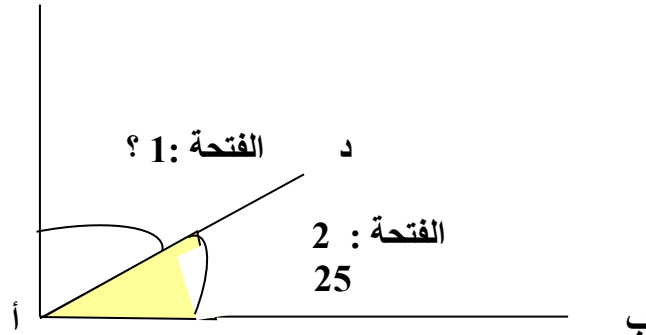
رسم الزوايا و الرمز إليها

المحتوى: الزاويتان المتكاملتان و الزاويتان المتتامتان
هدف الحصّة: أن يتمكّن الأطفال آخر الحصّة من حساب قيس فتحات الزوايا المكملّة و المتممة لـ 4 / 6 زوايا مفتوحة عنه

الزاويتان المتكاملتان و الزاويتان المتتامتان

(1) ألاحظ الرسم و أتمّم :

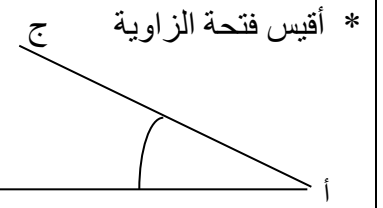
ج



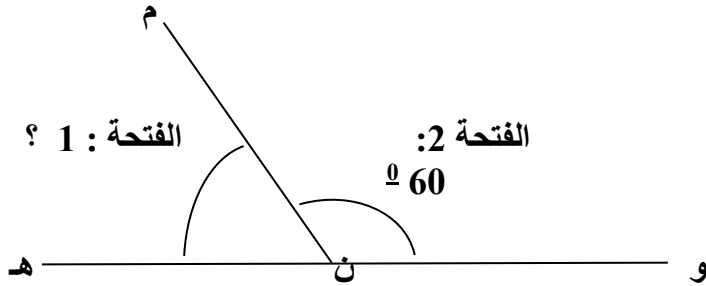
* الزاويتان :
* لأن :

* أذكر أنواع الزوايا :

.....
.....
.....
.....



(2) ألاحظ الرسم و أتمّم :



* الزاويتان :
* لأن :

* أكتب قيس الفتحة المتممة أمام كل قيس مذكور :

..... 35
..... 47
..... 78
..... 63
..... 85
..... 24
..... 72

* أكتب قيس الفتحة المتممة أمام كل قيس مذكور :

..... 125
..... 75
..... 160
..... 98
..... 110
..... 145
..... 25

الدعم و التطبيق

التقييم

69	47	69	72
43	15	143	111
75	54	75	37
126	105	36	34
56	54	56	82
108	124	08	21