

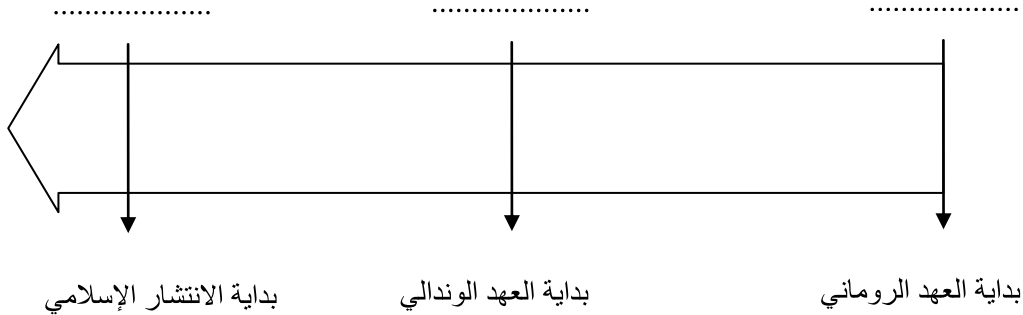
القسم: 1ث07	فرض مراقبة عدد 1 في التاريخ	المعهد الثانوي بالوسلاتية
الاسم و اللقب:		2009-2008
الرقم:		الأستاذ: محمد الحبيب

القسم الأول: 6 ن

السؤال الأول : عرف المصطلحات التالية 3 ن

- اللاسيديميونيون.....
- برسفونة.....
- اشمون.....

السؤال الثاني: أكمل السلم الزمني التالي 3 ن



القسم الثاني: 12 ن

لم تكن المؤسسات السياسية القرطاجية مستقلة عن بعضها تمام الاستقلال. بين ذلك

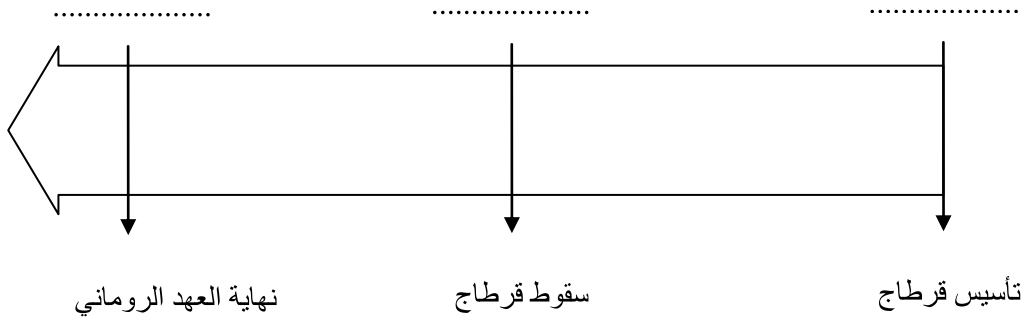
القسم: 1ث08	فرض مراقبة عدد 1 في التاريخ	المعهد الثانوي بالوسلاتية
الاسم و اللقب:		2009-2008
الرقم:		الأستاذ: محمد الحبيب

القسم الأول: 6 ن

السؤال الأول : عرف المصطلحات التالية 3 ن

- اشمون.....
- ملقرت.....
- الأرسقراطية.....

السؤال الثاني: أكمل السلم الزمني التالي 3 ن



القسم الثاني: 12 ن

بين خصائص فضاءات و طقوس الممارسة الدينية عند البونيين

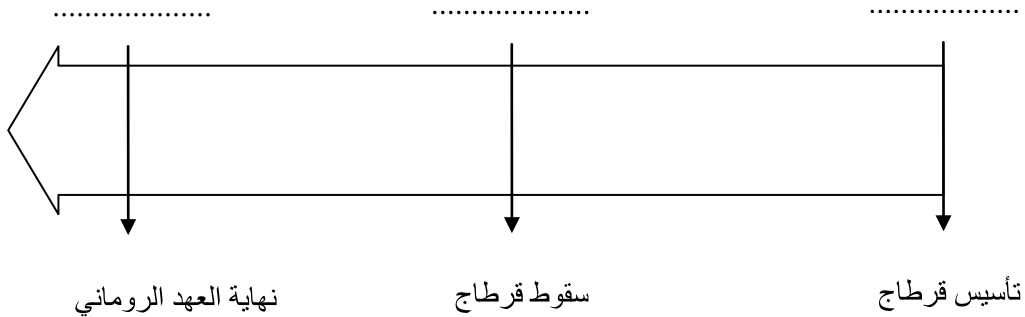
القسم: 1ث09	فرض مراقبة عدد 1 في التاريخ	المعهد الثانوي بالوسلاتية
الاسم و اللقب:		2009-2008
الرقم:		الأستاذ: محمد الحبيب

القسم الأول: 6 ن

السؤال الأول : عرف المصطلحات التالية 3 ن

- اللاسيديميونيون.....
- الحضارة البونية.....
- الأرسقراطية.....

السؤال الثاني: أكمل السلم الزمني التالي 3 ن



القسم الثاني: 12 ن

بين خصائص السلطة التشريعية و التنفيذية في قرطاج

القسم: 1 ث 07	فرض مراقبة عدد 1 في الجغرافيا	المعهد الثانوي بالوسلاتية
الاسم و اللقب:		2009-2008
الرقم:		الأستاذ: محمد الحبيب

القسم الأول: 6 ن

السؤال الأول : عرف المصطلحات التالية 3 ن

- أمل الحياة عند الولادة.....
- العولمة.....
- الزراعة الجاهدة.....

السؤال الثاني: احتسب الكثافة السكانية 3 ن

الكثافة	السكان بالألف نسمة	المساحة بالألف كم2	
.....	1033000	3287	الهند
.....	2700	1025	موريطانيا

القسم الثاني: 12 ن

يتوزع السكان في العالم بصفة متفاوتة و يفسر ذلك بأسباب طبيعية و بشرية. بين ذلك

القسم: 1 ث 08	فرض مراقبة عدد 1 في الجغرافيا	المعهد الثانوي بالوسلاتية
الاسم و اللقب:		2009-2008
الرقم:		الأستاذ: محمد الحبيب

القسم الأول: 6 ن

السؤال الأول : عرف المصطلحات التالية 3 ن

- نسبة النمو الطبيعي.....
-
- معدل الخصوبة.....
-
- الكثافة الفيزيولوجية.....
-

السؤال الثاني: أنجز رسمين للثورة الفلاحية 3 ن

القسم الثاني: 12 ن

قارن الوضعية الديمغرافية للعالم النامي بمثلتها في العالم المتقدم

القسم: 1 ث 10	فرض مراقبة عدد 1 في الجغرافيا	المعهد الثانوي بالوسلاتية
الاسم و اللقب:		2009-2008
الرقم:		الأستاذ: محمد الحبيب

القسم الأول: 6 ن

السؤال الأول : عرف المصطلحات التالية 3 ن

- نسبة النمو الطبيعي.....
-
- معدل الخصوبة.....
-
- الكثافة الفيزيولوجية.....
-

السؤال الثاني: أنجز رسمين للثورة الفلاحية 3 ن

القسم الثاني: 12 ن

قارن الوضعية الديمغرافية للعالم النامي بمثلتها في العالم المتقدم

القسم: 2 علوم	فرض مراقبة عدد 1 في الجغرافيا	المعهد الثانوي بالوسلاتية
الاسم و اللقب:		2009-2008
الرقم:		الأستاذ: محمد الحبيب

القسم الأول: 6 ن

السؤال الأول : عرف المصطلحات التالية 3 ن

- القحولة.....
.....
- الحضارة البونية.....
.....
- الأرسقراطية.....
.....

السؤال الثاني: أنجز رسما لأشكال الموارد المائية الجوفية 3 ن

القسم الثاني: 12 ن

بين مزايا الموقع و الوسط الطبيعي في العالم العربي