

Lycée Ksibet el mediouni

***A.S :2009-2010
Date : 30.11.2009
Durée : 1 heure***

***DEVOIR DE SYNTHÈSE
N°:1
INFORMATIQUE***

***Prof : M^{me} HADDAD
Classe : 2Eco et services***

Nom Prénom

Note

N.B : Cette feuille doit être remise à la fin de l'épreuve.

Partie théorique (10 points)

Exercice 1 : (4 points)

Inscrire les termes suivants aux bons endroits:

Fonctionnalités- démarrage – programmes – système – l'ordinateur –noyau – utilitaires – RAM.

Au moment du de l'ordinateur et après avoir choisi le système d'exploitation à utiliser,..... cherchera l'emplacement de ce dernier pour le mettre en marche. Une partie du Sera placée dans la : c'est du système comportant les fonctionnalités les plus utilisées. D'autres disponibles dans le système d'exploitation existant sous forme de appelés seront lancés dans le cas de besoin.

EXERCICE 2: (3 pts)

Mettez "X" devant le chemin spécifique correcte.

- d:/ document \ document.doc (...)
- c:\ document.doc (...)
- d:\ document.gif \ document (...)
- c:\ exel \ .exe (...)
- c:\doc\doc (...)
- document.xls (...)

↻Tournez la page SVP ➤

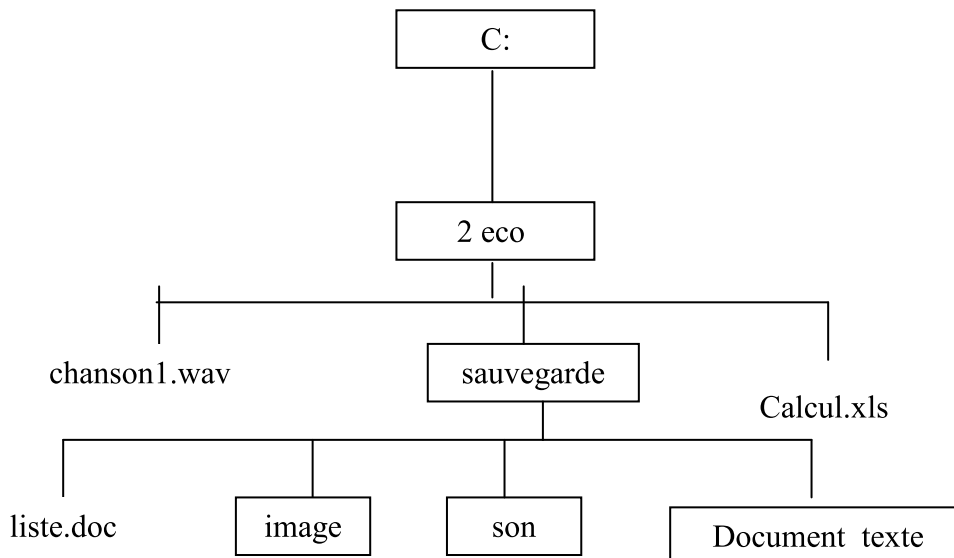
EXERCICE 3: (3 pts)

3. Donner deux avantages d'un réseau informatique avec un exemple pour chaque avantage :







↪
↪

Partie pratique (10 points)

Soit l'arborescence suivante :



Questions :

-  Créer cette arborescence sous le lecteur C:\. **(4pts)**
-  Renommer le dossier **2eco** votre **nom et prnéom**. **(1 pt)**
-  Donner la spécification (chemin d'accès) du fichier liste.doc: **(2 pts)**
Ecrire votre réponse dans le fichier liste .
-  Copier le fichier « chanson1 » dans le dossier son. **(1pts)**
-  Supprimer le dossier Image . **(1pts)**
-  Déplacer cette arborescence sous le bureau **(1 pts)**

BON TRAVAIL ... ☺