




MATIÈRE	INFORMATIQUE 	<i>Devoir de contrôle n°3</i>  <i>Année scolaire : 2008/2009</i>
DURÉE	1 HEURE 	
NIVEAU	3^{ÈME}	
SECTION	LETTRE	
Nom & prénom		N° Note /20

Soient les données suivantes :

V11864	15	5	1				
CH2564	6.23	23	0				
TV8138	7.545	6	0				
RC4879	9.132	21	1				
REFERENCE	PU	QTE	CAT	PHT	TVA	REMISE	PTTC
VE6256	8.528	49	0				
M19540	4.522	11	1				
RA5623	2.35	27	1				
AN7563	6.5	45	0				

Questions :

1. Lancer le tableur (**1 point**)
2. Saisir le travail ci-dessus dans une feuille de calcul et l'enregistrer sous le nom **VENTE** dans le dossier **D:\dcl3 (5 points)**
3. Placer la ligne numéro 5 en première position (**2 points**)
4. Calculer le PHT, la TVA, la REMISE et le PTTC pour chaque produit dans les colonnes qui leur sont réservées sachant que : (**7 points**)

a. Le PHT = PU * QTE

Formule1 (cellule E2)

.....

b. Le TVA est égal à :

PHT * 2 % si CAT = 1

PHT * 3 % si CAT = 0

Formule2 (cellule F2)

.....

c. REMISE = (PHT + TVA) * 5 %

Formule3 (cellule G2)

.....

d. PTTC = PHT + TVA * REMISE

Formule4 (cellule H2)

.....

6. Réaliser un graphique en **histogramme** représentant les **PTTC** en fonction des **REFERENCE (3 points)**