

EXERCICE N : 1

On mélange une solution aqueuse d'iodure de potassium de volume $v_1=90\text{ml}$ et de concentration $C_1=0.1\text{mol.l}^{-1}$ et une solution aqueuse de peroxydisulfate de potassium de volume $v_2=10\text{ml}$ et de concentration $C_2=0.1\text{mol.l}^{-1}$.

- 1- Ecrire l'équation de la réaction totale qui se produit et préciser les couples redox mis en jeu.
- 2- Dresser un tableau descriptif de l'évolution de cette réaction.
- 3- Montrer que l'un des réactif est en excès.
- 4- Calculer la concentration de diiode formé à la fin de la réaction.
- 5- A l'instant $t_0=120\text{min}$ la concentration du diiode formé est égale a $7.6.10^{-3}\text{mol}$. Dire, en le justifiant, si à cet instant la réaction est terminée ou non sachant la réaction est totale.

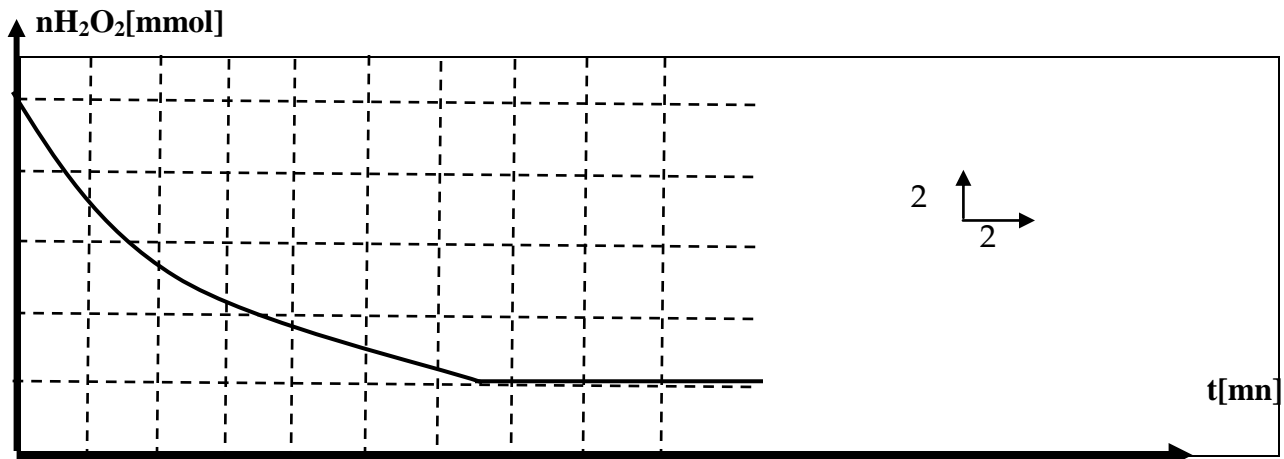
EXERCICE N : 2

1-Le peroxyde d'hydrogène H_2O_2 peut oxyder lentement les ions iodures I^- en milieu acide.

a- Ecrire l'équation de la réaction étudiée. Sachant les couples redox mis en jeu sont I_2/I^- et $\text{H}_2\text{O}_2/\text{H}_2\text{O}$.

b- peut-on travailler dans un milieu sans acide. Justifier ?

2- Pour étudier l'évolution temporel de cette réaction, on dose le diiode formée aux différents instants par les ions $\text{S}_2\text{O}_3^{2-}$, on obtient la courbe [1] qui représente la variation de nombre de mole de H_2O_2 restant en fonction de temps.



a- Dresser un tableau descriptif de l'évolution de cette réaction étudiée.

b- Ecrire l'équation de la réaction du dosage.

c- le dosage est réalisée avec des prélèvements effectués dans le milieu réactionnel, des prises d'essai successives aux quelles on y ajoute de l'eau glacée.

Préciser les facteurs cinétiques mis en jeu au cours de cette opération.

3- Définir la vitesse moyenne d'une réaction chimique. Calculer sa valeur entre $t_0=0$ et $t_1=10\text{mn}$.

4- Déterminer l'instant t_2 pour le quel la vitesse instantanée de la réaction est égale a la vitesse moyenne entre t_0 et t_1

5- Comment varie la vitesse au cours de temps ? Justifier.

6- En exploitant la courbe, déterminer la quantité de matière des ions I^- oxydée et la quantité de I_2 formée a la fin de la réaction.


7- Déterminer le temps de demi réaction, en précisant l'intérêt pratique de cet instant.

8- tracer sur la même courbe une autre si on travail avec un catalyseur.

EXERCICE N : 3


À l'instant $t=0$, on verse sur un échantillon de carbonate de calcium CaCO_3 de masse m , une solution aqueuse de chlorure d'hydrogène HCl .

L'équation de la réaction supposée totale qui a lieu est :



On maintient le mélange réactionnel à température constante T et à l'aide d'un dispositif expérimentale appropriée, on récupère le CO_2 dégagé et on trace la courbe de variation de CO_2 . $n[\text{CO}_2]=f[t]$.

- 1- Définir la vitesse instantanée d'une réaction chimique.
- 2- Expliquer qualitativement, en indiquant sur la figure la méthode utilisée, comment varie cette vitesse au cours de temps.
- 3- Préciser les facteurs cinétiques responsables à cette variation.
- 4- Définir la vitesse moyenne d'une réaction chimique. Et calculer sa valeur entre $t_0=0$ et $t_1=20\text{mn}$.
- 5- En déduire l'instant pour lequel la vitesse instantanée à cet instant est égale à la vitesse moyenne entre t_0 et t_1 .
- 6- On admettant que la fin de la réaction correspond à une disparition totale de l'échantillon. Déterminer la masse m . [on donne $M[\text{CaCO}_3]=100\text{g}\cdot\text{mol}^{-1}$].
- 7- tracer sur la même courbe une autre si on travail avec une température $T' > T$, en précisant l'effet de la température sur la variation de la vitesse de la réaction et interpréter microscopiquement cette variation.



EXERCICE N : 4

On mélange une solution aqueuse d'iodure de potassium de volume $v_1=100\text{ml}$ et de concentration $C_1=0.4\text{mol}\cdot\text{l}^{-1}$ et une solution aqueuse de peroxydisulfate de potassium de volume $v_2=100\text{ml}$ et de concentration $C_2=0.036\text{mol}\cdot\text{l}^{-1}$.

- 1- Ecrire l'équation de la réaction totale qui se produit et préciser les couples redox mis en jeu.
- 2- Dresser un tableau descriptif de l'évolution de cette réaction.
- 3- On effectue, à différentes dates t comptées à partir du moment où on a réalisé le mélange réactionnel, des prélèvements identiques de ce mélange. Après avoir versé dans chaque prélèvement de l'eau glacée, on dose le diiode formé par une solution de thiosulfate de sodium de concentration C_3 . le volume de la solution de thiosulfate versé à la disparition de la teinte jaune brune du diiode est V_3 .
 - a- Soit v le volume de prélèvement. exprimer la concentration du diiode dans un prélèvement, en fonction de C_3 , V_3 et v .
 - b- Dire en le justifiant, si le volume V_3 dépend de la dilution par l'eau glacée ou non.
- 4- Soit n le nombre de moles de diiode présent à la date t dans le mélange réactionnel total. Etablir la relation $n=[v_1+v_2]C_3V_3/2v$.
- 5- Les résultats de dosage sont consignés dans le tableau suivant :



t[mn]	3	5	9	12	16	20	30	40	65	80
[I ₂](10 ⁻³ mol.l ⁻¹)	2,8	4,3	6,8	8,2	10	11,4	13,7	15,2	16,6	16,9

a- Compléter le tableau suivant :

t[mn]	3	5	9	12	16	20	30	40	65	80
n(10 ⁻³ mol.l ⁻¹)	5,6									

b- Tracer sur papier millimètre la courbe [I₂]=f(t).

c- Définir la vitesse instantanée volumique d'une réaction chimique et la calculer a t=20mn.


d- Déterminer la quantité de diiode susceptible d'être formée dans le mélange initial si la réaction est totale.

e- Déduire la date t₁ a la quelle le mélange réactionnel initial contient la moitié de cette quantité.

EXERCICE N : 5

On veut étudier la réaction de décomposition de l'eau oxygénée dans une condition expérimentale ou V_M=24l.mol⁻¹, T et p constantes.

Pour cela on mesure le volume de dioxygène dégagé au cours de temps :



A la date t=0, une solution (s) de volume v=0.5 l, contient 3.10⁻² mol de H₂O₂.

Les résultats expérimentaux sont indiqués dans le tableau suivant :

t(mn)	0	5	10	15	20	25	30	35	40	60
V _{o2} (l)	0	0,08	0,13	0,18	0,22	0,25	0,27	0,30	0,32	0,34
x(mol)										

1- Dresser un tableau descriptif d'évolution de système.

2- Compléter le tableau.

3- Tracer la courbe x=f(t).

4- Comment évalue la vitesse de la réaction au cours de temps ? justifier.

5- Déterminer la vitesse moyenne de la réaction entre t₀=0 et t₁=30mn.

6- En déduire la vitesse moyenne volumique entre ces deux instants.

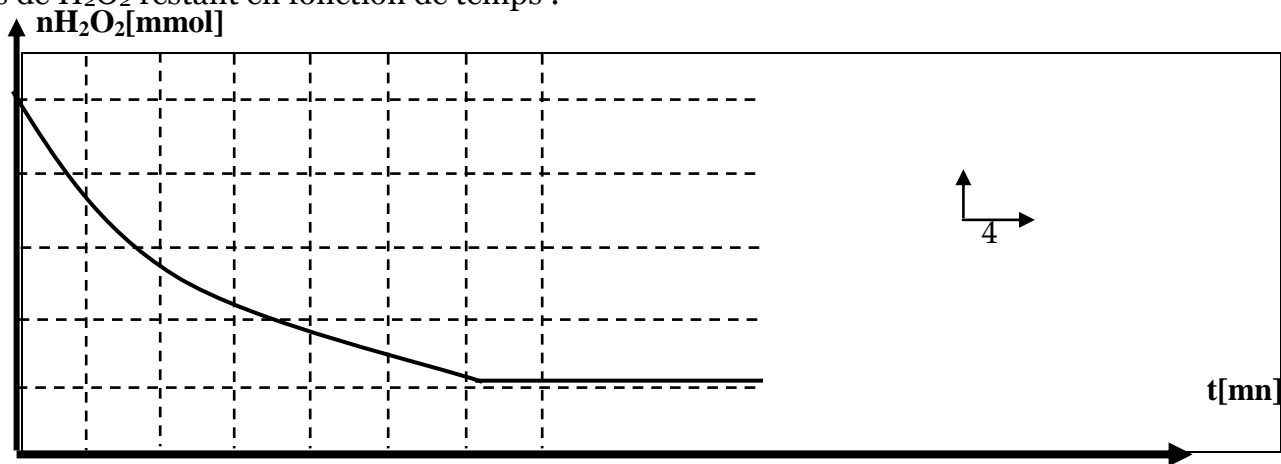
7- Calculer la vitesse volumique a l'instant t=20mn.

8- Dire en le justifiant vers quelle valeur tend la vitesse a la fin de la réaction.

EXERCICE N : 6

A la date t=0, on réalise un système (s), en mélangeant en milieu acide une solution aqueuse d'eau oxygénée en excès avec un volume v=8ml d'une solution aqueuse de KI de concentration C=1mol.l⁻¹.

L'étude d'évolution de cette réaction au cours de temps permet de tracer la courbe de variation de nombre de moles de H₂O₂ restant en fonction de temps :



1- Ecrire l'équation de la réaction étudiée sachant que les couples redox mis en jeu sont H₂O₂ \ H₂O et I₂ \ I⁻.



- 2- Dresser un tableau descriptif d'évolution de système.
- 3- a- Calculer la quantité de matière de H_2O_2 nécessaire pour oxyder tous les ions iodures initiaux.
b- En exploitant la courbe, déterminer l'échelle utilisée dans le traçage.
c- Déduire le nombre de moles de H_2O_2 initial.
- 4- Déterminer la vitesse moyenne de la réaction entre $t_0=0$ et $t_1=20mn$.
- 5- En déduire l'instant pour lequel la vitesse instantanée à cet instant est égale à la vitesse moyenne entre t_0 et t_1 .
- 6- Comment varie la vitesse au cours de temps ? Justifier.
- 7- tracer sur la même courbe une autre si on travail avec un catalyseur.

EXERCICE N : 7

L'oxydation des ions I^- par les ions $S_2O_8^{2-}$ est une réaction totale et lente.

Le diiode est de couleur jaune brunâtre.

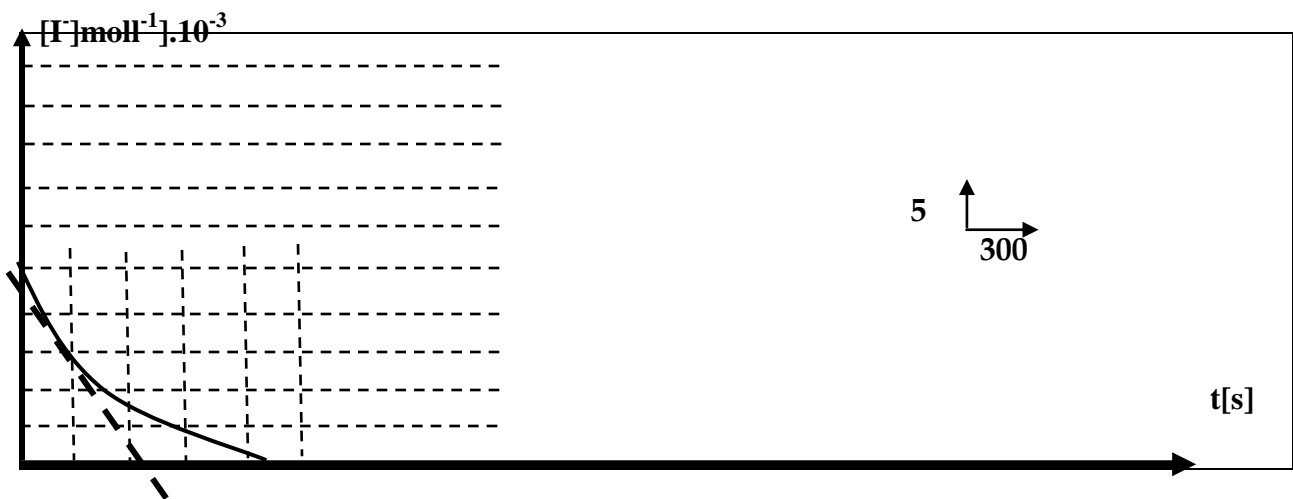
Expérience 1 :

À $t=0$ on mélange une solution aqueuse d'iodure de potassium de volume $v_1=100ml$ et de concentration $C_1=0.05mol.l^{-1}$ et une solution aqueuse de peroxydisulfate de potassium de volume $v_2=100ml$ et de concentration $C_2=0.04mol.l^{-1}$.

- 1- Ecrire l'équation de la réaction totale qui se produit et préciser les couples redox mis en jeu.
- 2- Dresser un tableau descriptif de l'évolution de cette réaction.
- 3- Le mélange réactionnel prend une coloration jaune brunâtre qui devient de plus en plus foncée au cours de temps. Préciser en le justifiant le quel de deux caractères de cette réaction lente ou totale est affirmée pour cette observation ?

On effectue des prélèvements de 10 ml à partir de ce mélange réactionnel au quel on ajoute de l'eau glacée, puis on y détermine la quantité de diiode formée à l'aide d'un dosage.

Ceci permet de tracer la courbe $[I^-]=f(t)$:



a- Préciser si t correspond à :

- La date à laquelle est effectuée la dilution du prélèvement avec de l'eau glacée.
- La date à laquelle, l'équivalence est atteinte au cours du dosage.

b- L'un de deux réactifs est en défaut, déduire, à partir du graphe, s'il s'agit de I^- et $S_2O_8^{2-}$

c- Déterminer, en $mol.L^{-1}.s^{-1}$, la vitesse volumique de cette réaction à la date $t=0$.

Expérience 2 :

On refait l'expérience précédente, en ajoutant 1,652g de cristaux de KI. (au cours de la dissolution le volume reste constante).

On veut tracer la courbe $[I^-]=f(t)$.

- 1- Effectuer les calculs nécessaires.

2- Comparer les vitesses de la réaction dans les deux expériences a l`instant $t=0$.

3- Tracer la courbe $[I^-]=f(t)$ sur la même figure

On donne $M(I)=126,1\text{g mol}^{-1}$ et $M(K)=39,1\text{g mol}^{-1}$

EXERCICE N : 8

On fait réagir 100ml, d`une solution de bichromate de potassium $\text{K}_2\text{Cr}_2\text{O}_7$ de concentration $C_1=0,03\text{ mol.l}^{-1}$. Avec 100ml d`acide oxalique $\text{H}_2\text{C}_2\text{O}_4$ de concentration $C_2=0,06\text{ mol.l}^{-1}$.

On étudie l`évolution de la réaction qui met en jeu les couple suivants : $\text{Cr}_2\text{O}_7^{2-}\text{Cr}^{3+}$ et $\text{CO}_2\text{H}_2\text{C}_2\text{O}_4$
La courbe $[\text{Cr}^{3+}]=f(t)$ est représentée dans la figure 1 :

1- Calculer la vitesse volumique moyenne entre $t_0=0$ et $t_1=20\text{s}$.

2- Déterminer l`instant t_3 pour le quel la vitesse instantanée est égale a la vitesse moyenne entre ces deux instants.


3- Déterminer l`instant au quel $[\text{H}_2\text{C}_2\text{O}_4]=0,012\text{mol.l}^{-1}$.

4- Calculer la vitesse volumique instantanée a l`instant $t=0\text{s}$ et $t=40\text{s}$.

5- Déterminer graphiquement le temps de demi réaction $t_{1/2}$.

6- Dire en le justifiant, si $t_{1/2}$ croit ou décroît par élévation de température du milieu réactionnel.

7- Déterminer la quantité de matière des ions Cr^{3+} susceptible d`être formée à la fin de la réaction supposée totale.



EXERCICE N : 9

L`acide nitreux HNO_2 est peu stable en solution aqueuse, il se forme en acide nitrique avec un dégagement de monoxyde d`azote NO selon cette réaction : $3\text{HNO}_2 \longrightarrow 2\text{NO} + \text{H}_3\text{O}^+ + \text{NO}_3^-$

Le suivi temporel de cette transformation a permis de tracer les courbes $[\text{HNO}_2]=f(t)$ et $[\text{NO}_3^-]=f(t)$

1- Dresser un tableau descriptif de l`évolution du système.

2- Donner une relation entre $[\text{HNO}_2]$, x et le volume de mélange réactionnel v supposé constante.

3- Donner une relation entre $[\text{NO}_3^-]$, x et v .

4- Déterminer l`expression de la vitesse volumique instantanée de la réaction en fonction de $[\text{HNO}_2]$ puis en fonction $[\text{NO}_3^-]$.

5- Comment varie la vitesse au cours de temps ? Justifier. A quel instant cette vitesse est maximale.

6- Déterminer graphiquement la valeur de cette vitesse maximale.

7- Déterminer l`instant t_0 pour le quel $[\text{HNO}_2]=[\text{NO}_3^-]$.

8- Déterminer le temps de demi réaction $t_{1/2}$.

9- Comparer t_0 et $t_{1/2}$. Expliquer.



