



الصفحة
1
8



الامتحان الوطني الموحد للبكالوريا
الدورة العادية 2011
الموضوع

7	المعامل	NS31	الفيزياء والكيمياء	المادة
4	مدة الإفجاز		شعبة العلوم الرياضية (أ) و (ب) (الترجمة الفرنسية)	الشعب (ة) أو المسلك

Les calculatrices non programmables sont autorisées

Le sujet comporte quatre exercices :

- Un exercice de chimie (7 points)
- Trois exercices de physique (13 points)

Exercice de chimie

- **Première partie** : identification de deux solutions acides – synthèse d'un ester.....(4,75points)
- **Deuxième partie** : Pile de concentration.....(2,25points)

Exercices de physique

Exercice 1 : Datation par le carbone 14.....(2points)

Exercice 2 : Echange énergétique entre une bobine et un Condensateur.....(5,25points)

Exercice 3 :

- **Première partie** : Etude du mouvement d'un skieur(2,25points)
- **Deuxième partie** : La chute verticale d'une bille métallique...(3,5points)

CHIMIE (7points)

Les deux parties 1 et 2 sont indépendantes

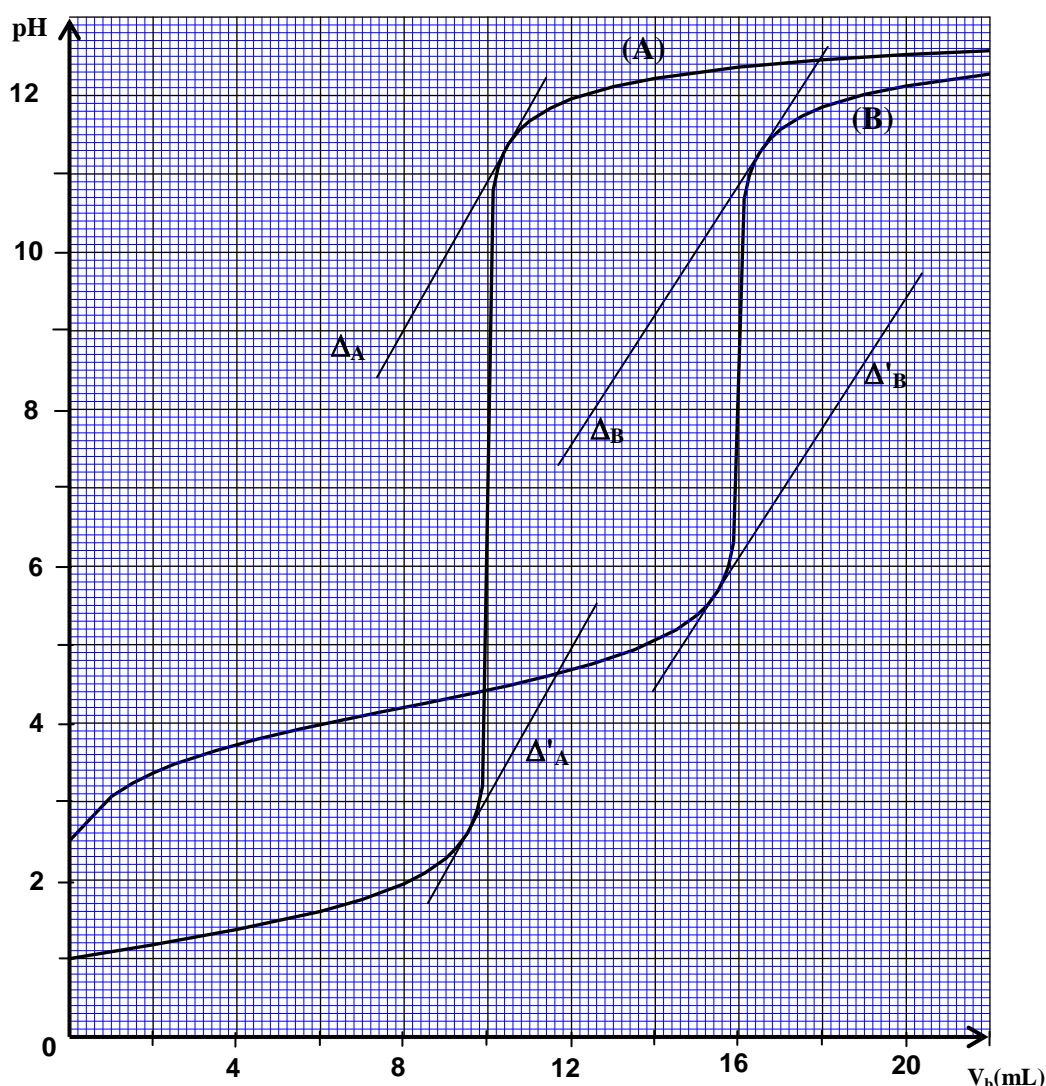
Première partie (4,75 points) : identification de deux solutions acides - synthèse d'un ester

Un technicien de laboratoire a préparé une solution (S_1) d'un acide carboxylique RCOOH et une solution (S_2) d'acide perchlorique HClO_4 et il a mis chacune d'elles dans un flacon , mais il a oublié de marquer leur nom sur les deux flacons .

Donnée : Le taux d'avancement final de la réaction de l'acide perchlorique avec l'eau est $\tau = 1$.

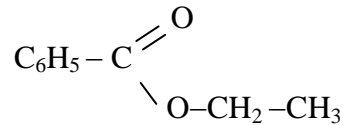
1- Pour identifier les deux solutions et déterminer la concentration de chacune d'elles , le technicien du laboratoire a dosé ces deux solutions avec une solution (S_b) d'hydroxyde de sodium .

Il a prélevé le même volume $V = 10\text{mL}$ de (S_1) et de (S_2) et il les a dosés avec la même solution (S_b) de concentration $C_b = 0,1 \text{ mol.L}^{-1}$.Le suivi de l'évolution du pH au cours du dosage lui a permis d'obtenir les deux courbes (A) et (B) ci-dessous représentant les variations du pH en fonction du volume V_b de la solution d'hydroxyde de sodium ajouté. Δ_A et Δ'_A sont deux parallèles tangentes à la courbe (A) et Δ_B et Δ'_B deux parallèles tangentes à la courbe (B).



- 0,5 1.1- Ecrire l'équation de la réaction de chaque acide avec l'eau .
- 0,5 1.2- Ecrire l'équation de la réaction du dosage pour chaque acide .
- 1,25 1.3- En utilisant les tangentes ,déterminer le pH du mélange à l'équivalence pour chacune des deux courbes en précisant la méthode suivie, en déduire ,en justifiant la réponse, la courbe obtenue au cours du dosage de la solution (S_1) .
- 0,5 1.4- Déterminer la concentration de chacune des solutions (S_1) et (S_2) .
- 0,75 1.5-A l'aide du tableau d'avancement de la réaction de l'acide carboxylique avec l'eau , déterminer la valeur de la constante pK_A du couple acide/base de cet acide.

2- Pour réaliser la synthèse d'un ester à partir de l'acide carboxylique RCOOH, le technicien du laboratoire a chauffé un mélange constitué de $8,2 \cdot 10^{-3}$ mol de l'acide carboxylique et $1,7 \cdot 10^{-2}$ mol d'éthanol C_2H_5OH , alors il a obtenu un ester de formule semi-développée :



A la fin de la réaction, il a refroidit le mélange réactionnel, et puis il a dosé l'acide carboxylique RCOOH restant et il a trouvé $n_r = 2,4 \cdot 10^{-3}$ mol.

- 0,25 2.1- Déterminer la formule semi-développée de l'acide carboxylique RCOOH.
 0,5 2.2- Déterminer la quantité de matière de l'ester formé à la fin de la réaction.
 0,5 2.3- Calculer le rendement de cette synthèse.

Deuxième partie (2,25 points) : Pile de concentration

Les piles électriques sont des dispositifs électrochimiques qui transforment l'énergie de la réaction chimique en énergie électrique. On cite parmi elles les piles de concentration dont l'énergie provient de la différence des concentrations des ions de deux solutions. Ce type de pile électrique est utilisé essentiellement dans l'industrie au niveau de la galvanisation et l'étude de la corrosion.

L'objectif de cet exercice est l'étude d'une pile de concentration cuivre-cuivre.

La pile représentée dans la figure (2) est constituée de :

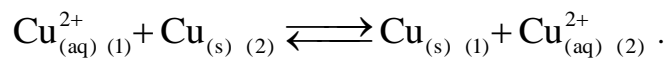
- Un bécher ① contenant un volume $V_1 = 50 \text{ mL}$ de solution (S_1) de sulfate de cuivre (II) ($Cu^{2+} + SO_4^{2-}$) de concentration C_1 dans laquelle est plongée une partie d'une lame de cuivre (L_1).
- Un bécher ② contenant un volume $V_2 = V_1$ de solution (S_2) de sulfate de cuivre (II) ($Cu^{2+} + SO_4^{2-}$) de concentration C_2 dans laquelle est plongée une partie d'une lame de cuivre (L_2).
- Un pont ionique qui relie les deux solutions (S_1) et (S_2).

On relie les deux lames de cuivre (L_1) et (L_2) par un conducteur Ohmique de résistance R , un ampèremètre et un interrupteur K .

On représente par $Cu_{(1)}^{2+}$ les ions $Cu_{(aq)}^{2+}$ dans le bécher ① et par

$Cu_{(2)}^{2+}$ les ions $Cu_{(aq)}^{2+}$ dans le bécher ②.

Lorsqu'on ferme l'interrupteur K , il se produit dans la pile une réaction d'oxydo-réduction d'équation :



On réalise deux expériences (a) et (b) en utilisant les valeurs des concentrations indiquées dans le tableau ci-dessous.

On mesure l'intensité du courant I qui passe dans le conducteur ohmique lorsqu'on ferme l'interrupteur dans chacune des expériences et on note le résultat obtenu dans le même tableau :

	Expérience (a)		Expérience (b)	
Concentration (en mol.L^{-1})	$C_1 = 0,010$	$C_2 = 0,10$	$C_1 = 0,10$	$C_2 = 0,10$
Intensité I de courant (en mA)	$I_1 = 140$		$I_2 = 0$	

Donnée : constante de Faraday : $F = 9,65 \cdot 10^4 \text{ C.mol}^{-1}$.

- 0,5 1- Dédurre à partir des résultats expérimentaux indiqués dans le tableau ci-dessus la valeur de la constante d'équilibre associée à l'équation de la réaction.
- 2- On s'intéresse à l'expérience (a) et on prend pour origine des dates ($t=0$) l'instant où l'on ferme l'interrupteur.
- 0,5 2.1- indiquer le pôle positif de la pile en justifiant la réponse.

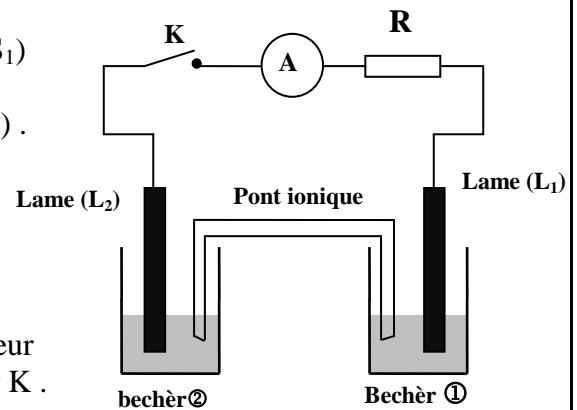


Figure 2

0,75 2.2- Etablir l'expression de l'avancement x de la réaction qui a eu lieu en fonction du temps t en considérant que l'intensité du courant I_1 reste constante au cours du fonctionnement de la pile . Calculer le taux d'avancement de la réaction à l'instant $t=30\text{min}$.

0,5 2.3- Calculer les concentrations $[\text{Cu}_{(1)}^{2+}]_{(\text{éq})}$ et $[\text{Cu}_{(2)}^{2+}]_{(\text{éq})}$ dans les béchers ① et ② lorsque la pile est consommée .

PHYSIQUE

Exercice 1 (2 points) : Datation par le carbone 14

Toutes les plantes absorbent le carbone C qui se trouve dans l'atmosphère (^{12}C et ^{14}C) à travers le dioxyde de carbone de telle sorte que le rapport du nombre $N(^{14}\text{C})_0$ des noyaux de carbone 14 à celui des noyaux du carbone $N(\text{C})_0$ dans les plantes reste constant durant leur vie : $\frac{N(^{14}\text{C})_0}{N(\text{C})_0} = 1,2 \cdot 10^{-12}$.

A partir de l'instant où la plante meurt, ce rapport commence à diminuer à cause de la désintégration du carbone 14 qui est un isotope radioactif .

Données :

- Demi-vie du carbone 14 : $t_{1/2} = 5730$ ans ;
- Masse molaire du carbone : $M(\text{C}) = 12,0 \text{ g} \cdot \text{mol}^{-1}$;
- Constante d'Avogadro : $N_A = 6,02 \cdot 10^{23} \text{ mol}^{-1}$;
- $1\text{an} = 3,15 \cdot 10^7 \text{ s}$.
- Le noyau du carbone 14 est radioactif β^- , sa désintégration donne un noyau ^A_ZY .

1- La figure (1) donne une partie du diagramme de Segri (Z,N) .

0,25 1.1- Ecrire l'équation de la transformation nucléaire du carbone 14 en déterminant le noyau fils ^A_ZY .

0,25 1.2- La désintégration du noyau du carbone $^{14}_6\text{C}$ donne un noyau de bore $^A_{Z'}\text{B}$.

Ecrire l'équation de cette transformation nucléaire en déterminant A' et Z' .

2- A l'aide du diagramme énergétique représenté dans la figure (2) :

0,25 2.1- Trouver l'énergie de liaison par nucléon du noyau de carbone 14 .

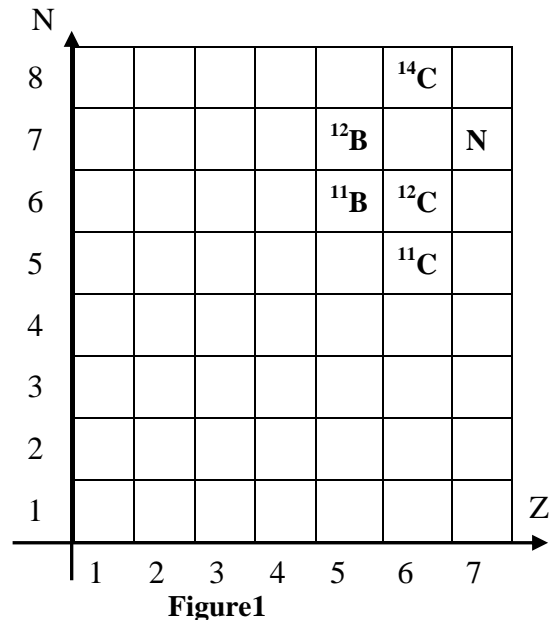
0,25 2.2- Trouver la valeur absolue de l'énergie produite par la désintégration d'un noyau du carbone 14.

3- On veut déterminer l'âge d'un morceau de bois très ancien , pour cela on y prélève à un instant t un échantillon de masse $m = 0,295\text{g}$, on trouve que cet échantillon donne 1,40 désintégrations par minute. On considère que ces désintégrations proviennent uniquement du carbone 14 qui se trouve dans l'échantillon étudié.

On prélève d'un arbre vivant un morceau de même masse que l'échantillon précédent $m = 0,295\text{g}$, on trouve que le pourcentage massique du carbone dans ce morceau est 51,2%

0,5 3.1- Calculer le nombre de noyaux du carbone C et le nombre de noyaux du carbone 14 dans le morceau qui a été prélevé de l'arbre vivant .

0,5 3.2- Déterminer l'âge du morceau de bois ancien .



Exercice 2 (5,25 points) : Echange d'énergie entre une bobine et un condensateur

Le dipôle LC se comporte comme un oscillateur dans lequel s'effectue périodiquement un échange d'énergie entre le condensateur et la bobine ; mais ,en réalité ,l'énergie totale de ce dipôle ne reste pas constante au cours du temps à cause des pertes d'énergie par effet joule .

L'objectif de cet exercice est d'étudier l'échange énergétique entre le condensateur et la bobine ainsi que la réponse d'une bobine à un échelon de tension électrique .

1- Oscillations électriques dans le cas où la bobine a une résistance négligeable .

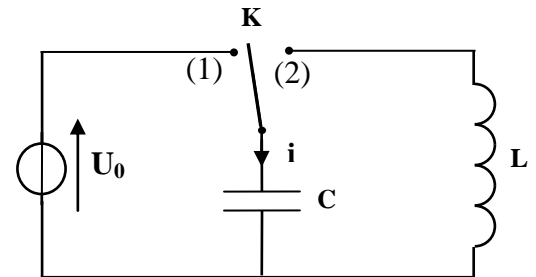
On considère le montage de la figure 1 qui comprend :

- Un générateur idéal de tension qui donne une tension U_0 ;
- Une bobine d'inductance L et de résistance négligeable ;
- Un condensateur de capacité $C=8,0.10^{-9}$ F ;
- Un interrupteur K .

On charge le condensateur sous la tension U_0 en plaçant l'interrupteur dans la position (1) .

Lorsque le condensateur est complètement chargé , on bascule l'interrupteur dans la position (2) à l'instant $t=0$, il passe alors dans le circuit un courant d'intensité i .

A l'aide d'un dispositif approprié , on visualise la courbe représentant les variations de l'intensité i en fonction du temps (figure2)et la courbe représentant les variations de l'énergie magnétique E_m emmagasinée dans la bobine en fonction du temps (figure3).



الشكل 1

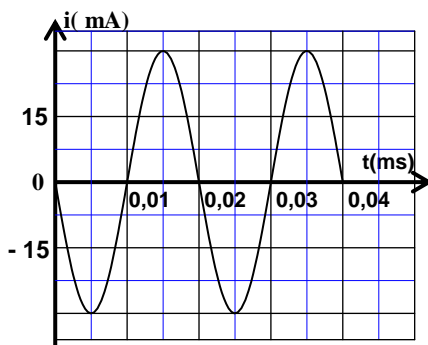


Figure 2

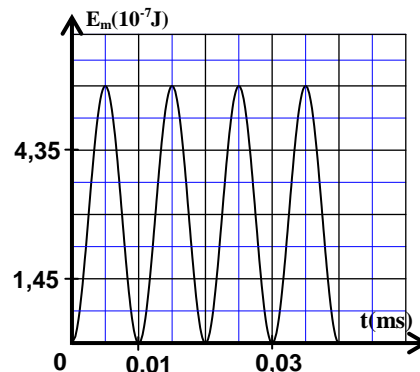


Figure 3

0,5 1.1- Trouver l'équation différentielle vérifiée par l'intensité i du courant.

1.2- A l'aide des figures (2) et (3) :

0,75 a- Déterminer la valeur de l'énergie totale E_T du circuit LC et en déduire la valeur de la tension U_0 .

0,5 b- Déterminer la valeur de L .

2- Réponse d'une bobine de résistance négligeable à un échelon de tension .

On monte la bobine précédente en série avec un conducteur ohmique de résistance $R=100\Omega$.On applique entre les bornes du dipôle obtenu un échelon de tension de valeur ascendante E et de valeur descendante nulle et de période T . On visualise à l'aide d'un dispositif approprié l'évolution de la tension u entre les bornes du générateur, la tension u_R aux bornes du conducteur ohmique et la tension u_L aux bornes de la bobine ; on obtient alors les courbes (1) , (2) et (3) représentées dans la figure 4 .

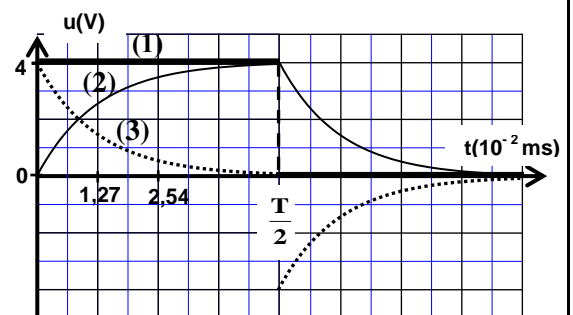


Figure 4

0,5 2.1- Etablir l'équation différentielle vérifiée par l'intensité du courant $i(t)$ dans l'intervalle $0 \leq t < \frac{T}{2}$.

2.2- La solution de cette équation différentielle s'écrit sous la forme : $i(t) = I_p(1 - e^{-\frac{t}{\tau}})$ avec I_p et τ des constantes .

0,5 a- Associer chacune des tensions u_L et u_R à la courbe correspondante dans la figure 4 .

0,5 b- A l'aide des courbes de la figure 4 ,trouver la valeur de I_p .

0,5 2.3- L'expression de l'intensité du courant s'écrit dans l'intervalle $\frac{T}{2} \leq t < T$ (sans changer l'origine du temps) sous la forme : $i(t) = A.e^{-\frac{t}{\tau}}$ avec A et τ des constantes .

Montrer que l'expression de l'intensité du courant à l'instant $t_1 = \frac{3T}{4}$ s'écrit sous la forme $i(t_1) = I_p.e^{-2}$.

3- Les oscillations électriques dans le cas où la bobine a une résistance non négligeable .

On répète l'expérience en utilisant le montage représenté dans la figure 1 en remplaçant la bobine précédente par une autre bobine ayant la même inductance L , mais sa résistance r n'est pas négligeable . Après avoir chargé complètement le condensateur , on bascule l'interrupteur dans la position (2) . La figure 5 représente l'évolution de la charge q du condensateur en fonction du temps .

0,5 3.1- Choisir la ou les réponses justes :

L'énergie emmagasinée dans la bobine est :

- a) maximale à l'instant $t_1 = 5.10^{-3}ms$.
- b) minimale à l'instant $t_1 = 5.10^{-3}ms$.
- c) maximale à l'instant $t_2 = 10^{-2}ms$.
- d) minimale à l'instant $t_2 = 10^{-2}ms$.

0,5 3.2- Montrer que l'équation différentielle vérifiée par la charge du condensateur s'écrit sous la forme :

$$\frac{d^2q}{dt^2} + 2\lambda \cdot \frac{dq}{dt} + \frac{4\pi^2}{T_0^2} \cdot q = 0$$

avec T_0 la période propre du circuit et $\lambda = \frac{r}{2L}$.

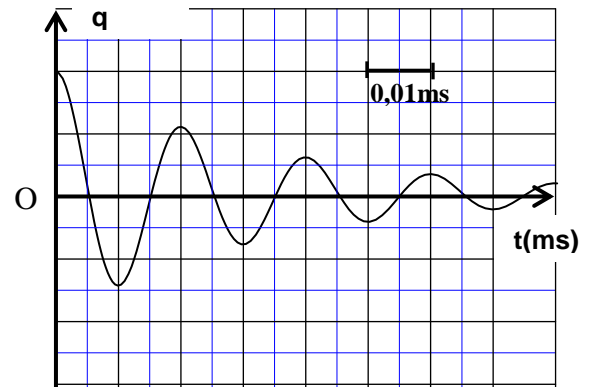


Figure 5

0,5 3.3- sachant que l'expression de la pseudo période T des oscillations est $T = \frac{1}{\sqrt{\frac{1}{T_0^2} - \frac{\lambda^2}{4\pi^2}}}$; trouver la condition que doit vérifier r par rapport à $\frac{L}{C}$ pour que $T \approx T_0$.

Exercice 3 (5,75 points)

Les deux parties (1) et (2) sont indépendantes

Première partie (2,25 points) : Etude du mouvement d'un skieur

Un skieur glisse sur une montagne recouverte de glace au pied de laquelle se trouve un lac d'eau .

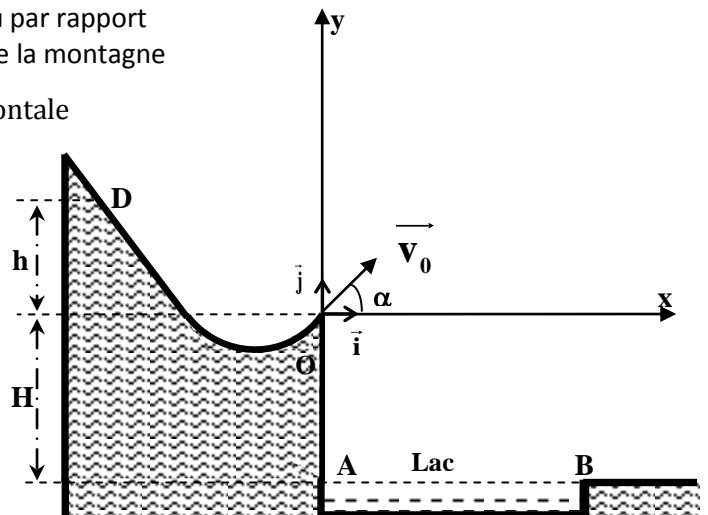
La figure suivante donne l'emplacement du lac d'eau par rapport au point O où le skieur sera obligé de quitter le sol de la montagne

avec une vitesse \vec{v} faisant un angle α avec l'horizontale

Le skieur part d'un point D situé à la hauteur h par rapport au plan horizontal contenant le point O, (voir figure) .La vitesse v du skieur lors de son passage au point O s'exprime par la relation

$$v = \sqrt{2g.h}$$

Dans un essai le skieur passe par le point O origine du repère (O, \vec{i}, \vec{j}) avec une certaine vitesse, alors il tombe dans le lac d'eau .



On veut déterminer la hauteur minimale h_m de la hauteur h du point D à partir duquel doit partir le skieur sans vitesse initiale pour qu'il ne tombe pas dans le lac .

Données :

- Masse du skieur et ses accessoires : $m=60\text{kg}$;
- Accélération de la pesanteur : $g=10\text{ m.s}^{-2}$;
- La hauteur : $H=0,50\text{ m}$;
- L'angle : $\alpha=30^\circ$

La longueur du lac d'eau : $AB = d = 10\text{m}$.

Pour cet exercice, on assimile le skieur et ses accessoires à un point matériel G et on néglige tous les frottements et toutes les actions de l'air.

- 0,75 1- Le skieur quitte le point O à l'instant $t = 0$ avec une vitesse \vec{v}_0 faisant un angle α avec l'horizontale.
1.1- En appliquant la deuxième loi de Newton , déterminer l'équation différentielle que vérifie chacune des coordonnées du vecteur vitesse dans le repère (O, \vec{i}, \vec{j}) .

- 0,5 1.2- Montrer que l'équation de la trajectoire du skieur s'écrit dans le repère cartésien sous la forme :

$$y(x) = -\frac{1}{2}g \cdot \frac{x^2}{v_0^2 \cdot \cos^2 \alpha} + x \cdot \tan \alpha .$$

- 1 2- Déterminer la valeur minimale h_m de la hauteur h pour que le skieur ne tombe pas dans le lac d'eau .

Deuxième partie (3,5 points) : La chute verticale d'une bille métallique .

L'objectif de cet exercice est d'étudier le mouvement de chute verticale d'une bille métallique dans l'air et dans un liquide visqueux.

Donnée :

- La masse volumique de la bille : $\rho_1 = 2,70 \cdot 10^3 \text{ kg.m}^{-3}$;
- La masse volumique du liquide visqueux : $\rho_2 = 1,26 \cdot 10^3 \text{ kg.m}^{-3}$;
- Le volume de la bille : $V = 4,20 \cdot 10^{-6} \text{ m}^3$
- Accélération de la pesanteur : $g = 9,80 \text{ m.s}^{-2}$

A l'instant $t=0$ on libère la bille d'un point O confondu avec son centre d'inertie G .

Le point O se trouve à une hauteur H de la surface libre du liquide visqueux qui se trouve dans un tube transparent vertical (figure 1).

La courbe de la figure (2) représente l'évolution de la vitesse v du centre d'inertie G de la bille au cours de sa chute dans l'air et dans le liquide visqueux.

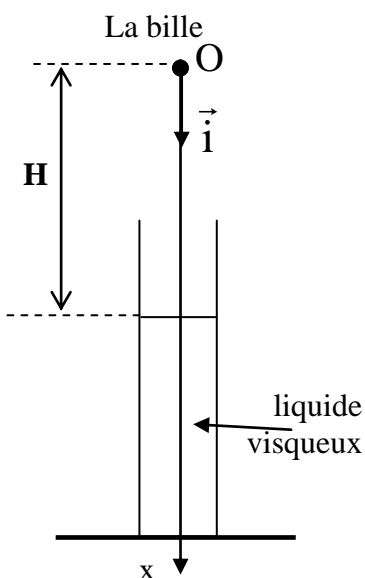


Figure 1

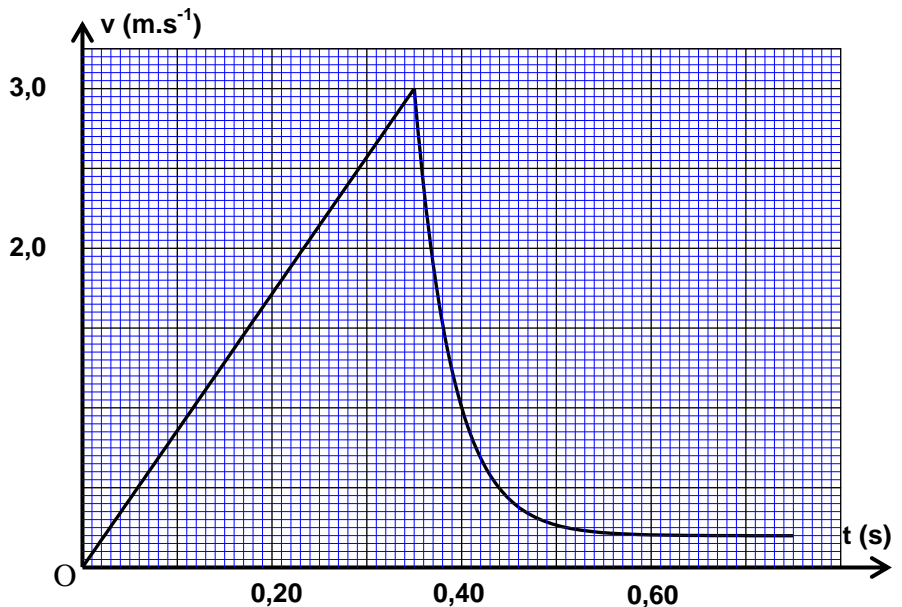


Figure2

1- Etude du mouvement de la bille dans l'air.

On modélise l'action de l'air sur la bille au cours de sa chute par une force verticale \vec{R} d'intensité R constante .

On néglige le rayon de la bille devant la hauteur H .

Le centre d'inertie de la bille atteint la surface libre du liquide visqueux à un instant t_1 avec une vitesse v_1 .

0,5 **1.1-** En appliquant la deuxième loi de Newton , exprimer R en fonction de V , ρ_1 , g , v_1 et t_1 .

0,5 **1.2-** En exploitant la courbe $v=f(t)$, calculer la valeur de R .

2- Etude du mouvement de la bille dans le liquide visqueux .

La bille est soumise pendant sa chute dans le liquide visqueux , en plus de son poids aux forces :

- Poussée d'Archimède : $\vec{F} = -\rho_2 \cdot V \cdot g \cdot \vec{i}$

- Force de frottement visqueux : $\vec{f} = -k \cdot v \cdot \vec{i}$ avec k constante positive .

On modélise l'évolution de la vitesse v du centre d'inertie de la bille, dans le système international des unités, par l'équation différentielle $\frac{dv}{dt} = 5,2 - 26 \cdot v$ (1)

0,5 **2.1-** Trouver l'équation différentielle littérale vérifiée par la vitesse v du centre d'inertie de la bille en fonction des données du texte.

0,75 **2.2-** En utilisant cette équation différentielle littérale et le graphe de la figure 2 ,vérifier que l'équation différentielle (1) est correcte.

0,5 **2.3-** En utilisant l'équation aux dimensions, déterminer la dimension de la constante k .

Calculer la valeur de k

0,75 **2.4-** sachant que la vitesse du centre d'inertie de la bille dans le liquide visqueux à un instant t_i est $v_i = 2,38 \text{ m.s}^{-1}$; établir à l'aide de la méthode d'Euler que l'expression de la vitesse de G à l'instant $t_{i+1} = t_i + \Delta t$ est : $v_{i+1} = (1 - 26\Delta t) \cdot v_i + 5,20\Delta t$ avec Δt le pas du calcul .

Calculer v_{i+1} dans le cas où $\Delta t = 5,00 \text{ ms}$.
